



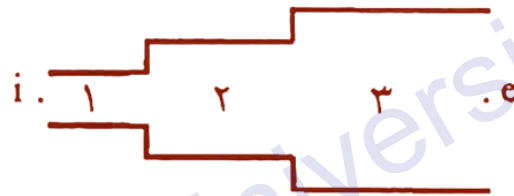
مکانیک سیالات ۲

سیستم‌های چندلوله‌ای

میثم سعیدی-استادیار گروه مهندسی مکانیک

اتصال سری

مطابق شکل لوله‌های ۱ و ۲ و ... و n را در نظر می‌گیریم که به صورت سری به هم متصل شده‌اند:



دبی جریان در همه لوله‌ها برابر است یعنی:

$$Q_1 = Q_2 = Q_3 = \dots = Q_n$$

تلفات هم برابر است با مجموع تلفات در لوله‌ها:

$$h_{f_{ie}} = h_{f_1} + h_{f_2} + h_{f_3} + \dots + h_{f_n}$$

مثال) شکل داده شده دو لوله قرار گرفته به صورت سری را نشان می‌دهد که در آن $L_1 = L_2 = L$ ، $D_1 = D_2 = D$ و $f_1 \neq f_2$ می‌باشد. در صورتی که از نظر هیدرولیکی معادل سازی کل سیستم با یک لوله به قطر D و فاکتور اصطکاک f_1 ، مدنظر باشد طول لوله معادل از کدام رابطه بدست می‌آید؟



$$h_f = h_{f_1} + h_{f_2}$$

$$f_1 \frac{L_{eq}}{d} \frac{V^2}{2g} = f_1 \frac{L_1}{d_1} \frac{V_1^2}{2g} + f_2 \frac{L_2}{d_2} \frac{V_2^2}{2g}$$

$$d_1 = d_2 = d, \quad L_1 = L_2 = L \Rightarrow f_1 L_{eq} = f_1 L + f_2 L \Rightarrow L_{eq} = \frac{L(f_1 + f_2)}{f_1}$$

لوله‌های معادل

لوله‌های معادل: دو لوله را معادل گویند هرگاه به ازای افت اصطکاکی یکسان دبی جریان یکسانی در آنها برقرار باشد.

با استفاده از معادله دارسی - ویسباخ داریم:

$$h_f = f \frac{L}{d} \frac{V^2}{2g}, \quad Q = AV = \frac{\pi d^2}{4} V \Rightarrow h_f = f \frac{L}{d^5} \frac{Q^2}{\pi^2 g}$$

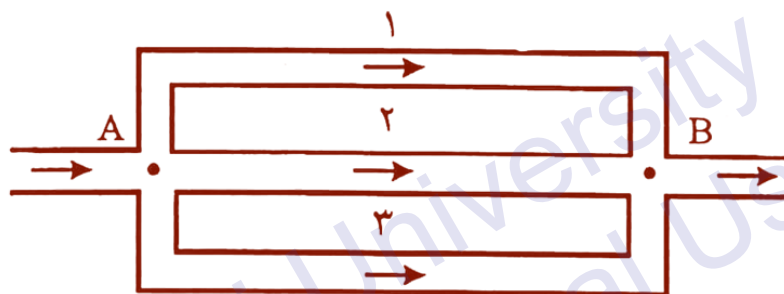
$$h_f, Q = cte \Rightarrow L \propto \frac{d^5}{f}$$

$$\frac{L_2}{L_1} = \left(\frac{d_2}{d_1}\right)^5 \left(\frac{f_1}{f_2}\right) \Rightarrow L_2 = L_1 \left(\frac{d_2}{d_1}\right)^5 \left(\frac{f_1}{f_2}\right)$$

L_2 نشان دهنده طولی از لوله ۲ است که معادل لوله ۱ است.

اتصال موازی

مطابق شکل لوله‌های ۱ و ۲ و ... و n را در نظر می‌گیریم که به صورت موازی به هم متصل شده‌اند:



تلفات کلیه لوله‌ها با هم برابر است:

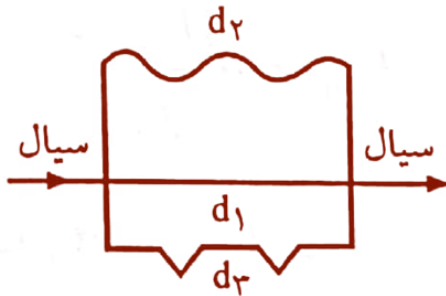
$$h_{f_1} = h_{f_2} = h_{f_3} = \dots = h_{f_n} = \frac{P_i}{\gamma} + z_i - \left(\frac{P_e}{\gamma} + z_e \right)$$

دبی کل هم برابر است با مجموع دبی لوله‌ها

$$Q = Q_1 + Q_2 + Q_3 + \dots + Q_n$$

مثال) در شکل زیر افت فشار در کدام لوله بیشتر است؟

$$d_1 > d_2 > d_3$$



(۱) افت فشار در هر سه لوله با هم برابر است.

(۲) افت فشار در لوله با قطر d_3 از همه بیشتر است.

(۳) افت فشار در لوله با قطر d_1 از همه بیشتر است.

(۴) افت فشار در لوله با قطر d_2 از همه بیشتر است.

افت فشار در لوله‌های موازی برابر است. ← گزینه (۱) صحیح است.

نکته: نسبت دبی‌ها در دو لوله موازی ۱ و ۲ از معادله زیر تعیین می‌شود:

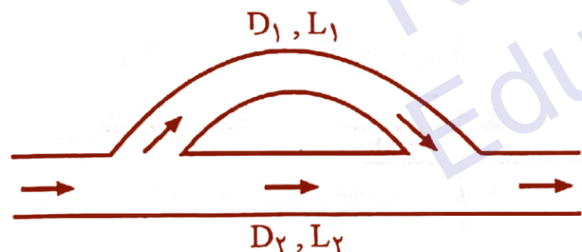
$$\frac{Q_1}{Q_2} = \sqrt{\frac{f_2}{f_1} \times \frac{L_2}{L_1} \times \frac{d_1^5}{d_2^5}}$$

اگر $L_1 = L_2$ و $f_1 = f_2$ باشد:

$$\frac{Q_1}{Q_2} = \left(\frac{d_1}{d_2}\right)^{2/5}$$

مثال) باتوجه به شکل مقابل در صورتی‌که داشته باشیم $f_1 = f_2$, $D_1 = 2D_2$, $L_1 = 2L_2$ نسبت $\frac{Q_1}{Q_2}$

در جریان تحت فشار چقدر است؟



۶ (۱)

۲ (۲)

۳/۵ (۳)

۴ (۴)

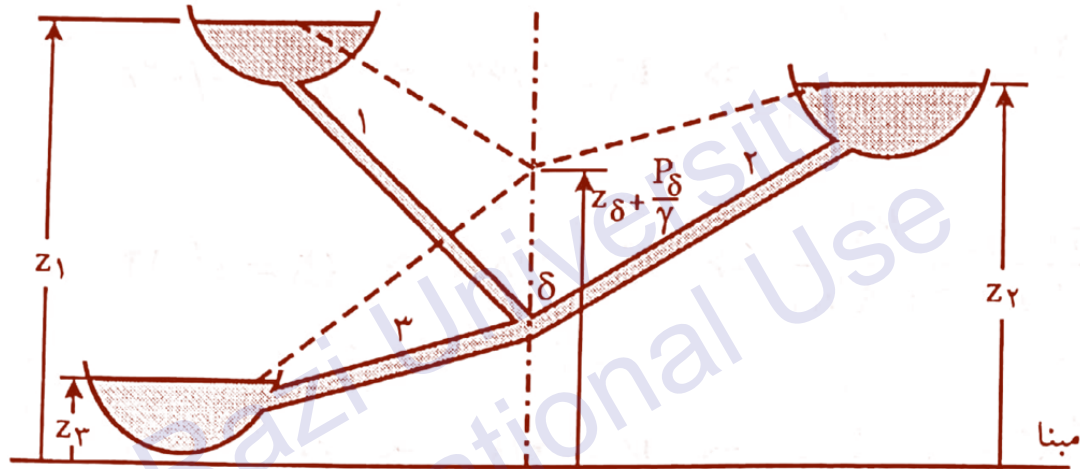
(حل)

$$\frac{Q_1}{Q_2} = \sqrt{\frac{f_2}{f_1} \times \frac{L_2}{L_1} \times \frac{d_1^5}{d_2^5}} = \sqrt{1 \times \frac{1}{2} \times 2^5} = 4$$

گزینه (۴) صحیح است.

اتصال مخازن به هم

مطابق شکل سه مخزن را در نظر می‌گیریم که توسط سه لوله با یک اتصال مشترک به هم وصل شده‌اند.



در سیستم فوق تنها دبی جریان‌ها مجهول است و داریم:

$$Q_{\delta, in} = Q_{\delta, out} \quad \text{معادله پیوستگی}$$

با توجه به معادله پیوستگی می‌توان گفت:

$$Q_1 = Q_2 + Q_3 \quad \text{یا} \quad Q_1 + Q_2 = Q_3$$

صادق بودن هر کدام از معادلات فوق به ارتفاع خط تراز هیدرولیکی در نقطه اتصال δ بستگی دارد. اگر ارتفاع خط تراز هیدرولیکی در نقطه اتصال δ ، از سطح هر کدام از مایعات موجود در مخازن بالاتر باشد. مایع به آن مخزن وارد می شود و برعکس اگر پایین تر باشد مایع از آن مخزن خارج می شود. روش حل مسئله به صورت زیر است:

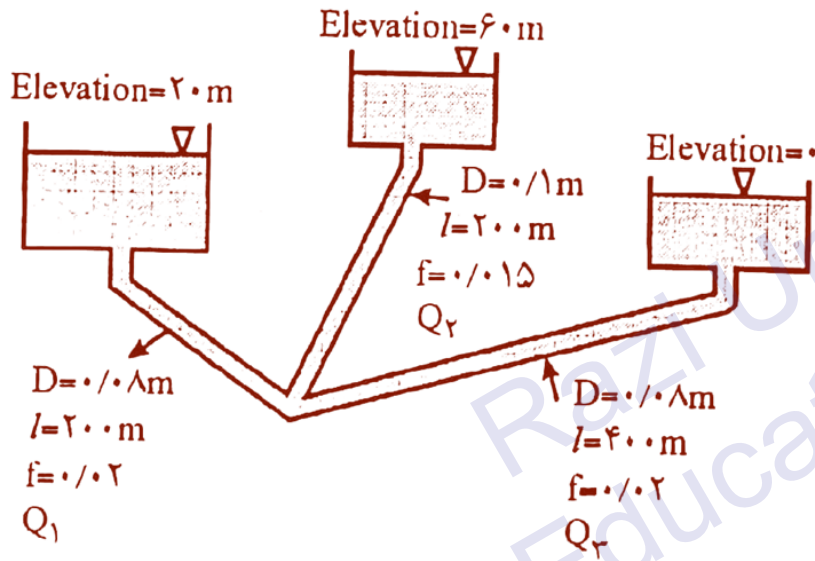
جاگذاری در معادله پیوستگی $\rightarrow Q_1, Q_2, Q_3 \rightarrow$ حدس δ

مقدار بیشتری برای δ حدس می زنیم $\rightarrow Q_{\delta, in} > Q_{\delta, out}$

مقدار کمتری برای δ حدس می زنیم $\rightarrow Q_{\delta, in} < Q_{\delta, out}$

حدس و خطا را تا موقعی ادامه می دهیم که معادله پیوستگی برقرار شود.

مثال) با صرف نظر کردن از اتلافات جزیی میزان جریان در هر لوله چقدر است؟ ضریب اصطکاک در هر لوله ثابت است.



$$Q_1 = 0.14, Q_2 = 0.28, Q_3 = 0.1 \quad (1)$$

$$Q_1 = 0.1, Q_2 = 0.2, Q_3 = 0.1 \quad (2)$$

$$Q_1 = 0.14, Q_2 = 0.28, Q_3 = 0.14 \quad (3)$$

$$Q_1 = 0.28, Q_2 = 0.14, Q_3 = 0.14 \quad (4)$$

(حل)

با حدس $Z_\delta + \frac{P_\delta}{\gamma} = 40$ داریم:

$$20 = 0.15 \times \frac{200}{0.1} \times \frac{V_2^2}{2 \times 9.81} \Rightarrow V_2 = 3.62 \Rightarrow Q_2 = 0.28$$

$$20 = 0.2 \times \frac{200}{0.8} \times \frac{V_1^2}{2 \times 9.81} \Rightarrow V_1 = 2.8 \Rightarrow Q_1 = 0.14$$

$$40 = 0.2 \times \frac{400}{0.8} \times \frac{V_3^2}{2 \times 9.81} \Rightarrow V_3 = 2.8 \Rightarrow Q_3 = 0.14$$

$$Q_{\delta, out} = 0.14 + 0.14 = 0.28, \quad Q_{\delta, in} = 0.28$$

$$Q_{\delta, in} = Q_{\delta, out} \Rightarrow \text{حدس صحیح است}$$